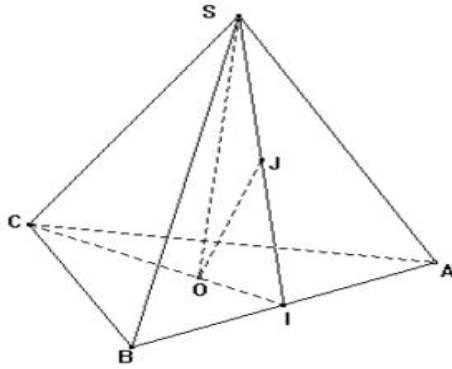


هندسة في الفضاء

التمرين 1 :



SABCD هرم منتظم بحيث :

$SA = SB = SC = AB = AC = BC = 2\sqrt{3}$ و O مركز

الدائرة المحيطة بقاعدته ABC و SO ارتفاعه و I

منتصف [AB]

(1) أ- ما هي طبيعة كل من المثلثين ABC و SAB؟

علّل إجابتك.

ب- استنتج أنّ $(AB) \perp (SIC)$

(2) أ- احسب CI

ب- استنتج أنّ $OI = 1$

(3) احسب الارتفاع SO

(4) لتكن J منتصف [SI] احسب OJ

الإصلاح :

(4 نقاط 0,5 + 1 + 0,5 + 0,5 + 1 + 0,5)

SABCD هرم منتظم بحيث :

$SA = SB = SC = AB = AC = BC = 2\sqrt{3}$ و O مركز

الدائرة المحيطة بقاعدته ABC و SO ارتفاعه و I منتصف

[AB]

(1) أ- ما هي طبيعة كل من المثلثين ABC و SAB؟ علّل إجابتك.

لدينا $AB = AC = BC = 2\sqrt{3}$ إذن ABC متقايس الأضلاع كذلك SAB متقايس الأضلاع لأنّ $SA = SB = AB = 2\sqrt{3}$

ب- استنتج أنّ $(AB) \perp (SIC)$

بما أنّ كلّ من المثلثين ABC و SAB متقايس الضلعين و I منتصف [AB] فإنّ [CI] و [SI] الارتفاعان الموافقان للضلع [AB]

و منه (AB) يعامد (SI) و (CI) المتقاطعين في I إذن $(AB) \perp (SIC)$

(1) أ- احسب CI

[CI] ارتفاع المثلث المتقايس الأضلاع ABC إذن $CI = \frac{AB\sqrt{3}}{2} = \frac{2\sqrt{3} \times \sqrt{3}}{2} = 3$

ب- استنتج أنّ $OI = 1$

ABC متقايس الأضلاع و O مركز الدائرة المحيطة به إذن O مركز ثقل هذا المثلث و منه $OI = \frac{1}{3} CI = \frac{1}{3} \times 3 = 1$

(2) احسب الارتفاع SO

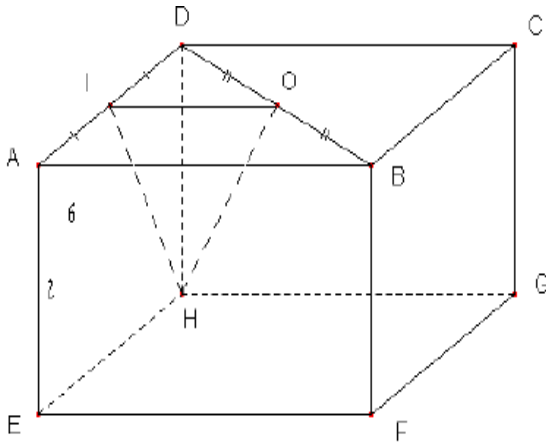
OIS قائم في O حسب نظرية بيتاغورس فإنّ $SO^2 = SI^2 - OI^2 = 3^2 - 1^2 = 9 - 1 = 8$ و منه $SO = 2\sqrt{2}$ ارتفاع [SI]

المثلث المتقايس الأضلاع SAB إذن $SI = 3$

(3) لتكن J منتصف [SI] احسب OJ

OIS قائم في O و J منتصف وتره [SI] إذن $OJ = JS = JI = \frac{SI}{2} = \frac{3}{2} = 1,5$

التمرين 2 :

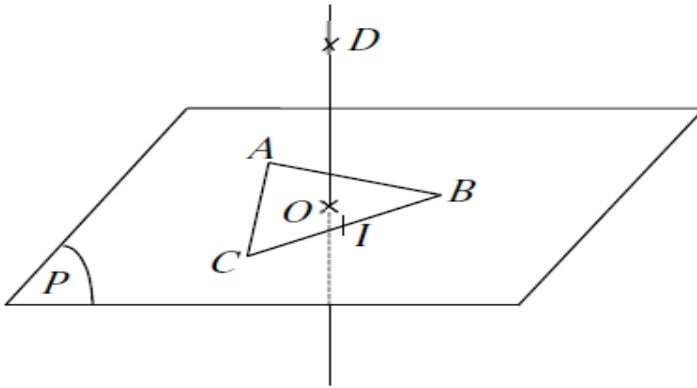


- نعتبر متوازي مستطيلات $ABCDEFGH$ ، حيث $AB=6$ cm و $AD=4$ cm و $AE=2\sqrt{3}$ cm
- (1) لتكن O مركز المستطيل $ABCD$ ، بين أن $BD=2\sqrt{13}$ ثم أستنتج OD .
 - (2) لتكن I منتصف $[AD]$ ، بين أن $(IO) \parallel (AB)$ ثم احسب OI .
 - (3)-أ) بين أن $(HD) \perp (ABD)$.
ب) استنتج أن HDO مثلث قائم في D ثم بين أن $OH=5$.
 - (4) احسب IH ثم استنتج أن المثلث IOH قائم في I .

2

التمرين 3 :

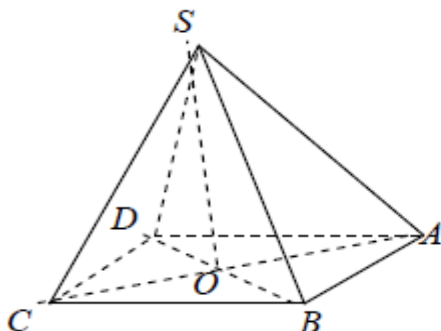
ليكن P مستوي و A ، B و C ثلاث نقاط من المستوي بحيث المثلث ABC متقايس الأضلاع. لتكن I منتصف $[BC]$ و O مركز الدائرة المحيطة بالمثلث ABC و (Δ) المستقيم المارّ من O و العمودي على P .



- نعتبر D نقطة من (Δ) مخالفة لـ O .
- لتكن $AB=6$ و $OD=6$.
- (1) بين أنّ $DC = BD$.
 - (2) ليكن (Δ') العمودي على P في I .
أ) بين أنّ $(\Delta') \subset (IAD)$.
ب) استنتج أنّ $(BC) \perp (IAD)$.
 - (3) أحسب AI ثمّ مساحة المثلث ABC .
 - (4) أحسب OA . ثمّ استنتج أنّ $DC = 4\sqrt{3}$.

التمرين 4 :

$SABCD$ هرمًا منتظمًا قاعدته المربع $ABCD$ مركزه O و $AB=4\sqrt{2}$ و $SO=3$ ارتفاعه



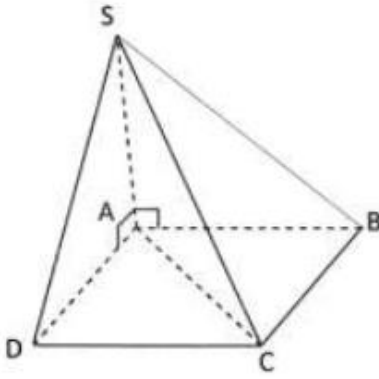
- 1 - أحسب OA
- 2 - أبين أن المثلث SOA قائم الزاوية في O
ب - أحسب SA

3. لتكن E منتصف $[SA]$ و F منتصف $[SB]$

- أ - احسب EF
- ب - بين أن $(EF) \parallel (ABC)$

3 - لتكن G منتصف $[BC]$

ماهي طبيعة الرباعي $EFGO$ علل جوابك



- (وحدة قياس الطول هي الصنتمتر)
 يمثل الرسم المصاحب هرمًا SABCD حيث $AB = 2\sqrt{2}$ مربع و $SA = 2\sqrt{5}$ المستقيم (SA) عمودي على المستقيمين (AB) و (AD) المستقيم (SA) عمودي على المستوي (ABD).
 (1) أ) بين أن المستقيم (SA) عمودي على المستوي (ABD).
 ب) استنتج أن المثلث SAC قائم الزاوية.
 (2) أ) أحسب البعد AC.
 ب) بين أن $SC = 6$.
 (3) لتكن E منتصف [SC]. أحسب البعد AE.

الإصلاح :

- 1) أ- بما أن : المستقيم (SA) عمودي على (AB) و (AD) على التوالي في النقطة A، وهما مستقيمين من المستوي (ABD).

$$\boxed{(SA) \perp (ABD)} \text{ فإن:}$$

- ب- بما أن المستقيم (SA) عمودي على المستوي (ABD) في النقطة A، فإن كل مستقيم محتو في المستوي (ABD) و مار من A يكون عموديًا على (SA) و منه : $(SA) \perp (AC)$ يعني SAC مثلث قائم الزاوية في A.

- 2) أ- بما أن ABCD مربع طول ضلعه $2\sqrt{2}$ ، فإن: $AC = \sqrt{2} \times AB = \sqrt{2} \times 2\sqrt{2} = 4 \text{ cm}$ ، و بالتالي: $\boxed{AC=4 \text{ cm}}$

- ب- بتطبيق نظرية فيثاغورس في المثلث SAC القائم في A، فإن: $SC^2 = AC^2 + AS^2$ يعني $SC^2 = 4^2 + (2\sqrt{5})^2$

$$\text{يعني } SC^2 = 16 + 20 \text{ يعني } SC^2 = 36 \text{ يعني } SC = \sqrt{36} = 6 \text{ cm} \text{، و بالتالي: } \boxed{SC=6 \text{ cm}}$$

- 3) بما أن SAC مثلث قائم الزاوية في A فإن منتصف وتره [SC] متساوي البعد عن رؤوسه الثلاثة،

$$\text{و بما أن E منتصف الوتر [SC] فإن } AE = ES = EC = \frac{SC}{2} \text{ يعني } AE = \frac{6}{2} = 3 \text{ و بالتالي } \boxed{AE=3 \text{ cm}}$$

التمرين 6 :

- يمثل الرسم المصاحب متوازي مستطيلات ABCDEFGH حيث $AB = 6$ و $BC = 4$ و $AE = 2\sqrt{3}$

- و O مركز المستطيل ABCD.

- (1) احسب AG.

- (2) احسب BD ثم استنتج OD.

- (3) ليكن K منتصف [AD].

- أ) احسب OK.


- ب) بين أن المثلث OHD قائم ثم استنتج OH.

- ج) احسب KH.

- د) بين أن المثلث KOH قائم الزاوية.

- (4) لتكن I نقطة من [A] حيث $AI = \sqrt{3}$ و J مسقط I على (OA) و I لمنحى (OB).

- احسب IJ.



الإحصاء و الإحتمالات

التمرين 1 :

الجدول التالي يقدّم توزيع عمال شركة حسب أجورهم الشهرية

الأجر الشهري	[400, 500[[500, 600[[600, 700[[700, 800[
عدد العمال	40	20	30	10

- (1) أ/ مثل السلسلة الإحصائية بمخطّط المستطيلات ثم أرسم مضلع التكرارات.
ب/ أحسب معدّل الأجر الشهري للعامل في هذه الشركة.
- (2) أ/ كوّن جدولا يحوي التكرارات التراكمية الصاعدة و التواترات التراكمية الصاعدة.
ب/ أرسم مضلع التواترات التراكمية الصاعدة.
ج/ جد قيمة تقريبية لموسّط هذه السلسلة الإحصائية.
- (3) إذا اخترنا عاملا بصورة عشوائية في هذه الشركة ما هو إحتمال أن يكون أجره الشهري محصورا بين 500 و 700 دينارا.

التمرين 2 :

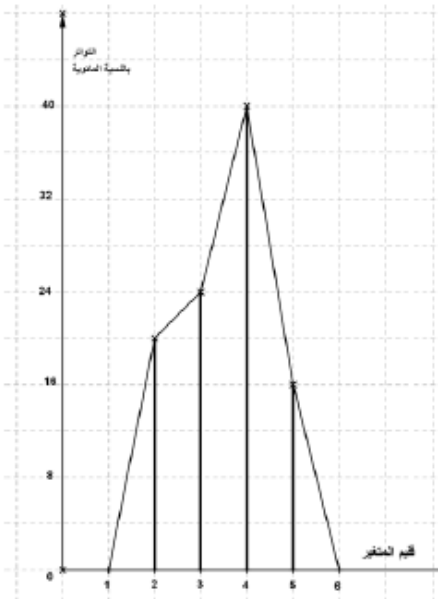
الجدول التالي يقدّم عدد أفراد كل عائلة في عينة مكونة من 50 عائلة

عدد أفراد العائلة	3	4	5	6	7
عدد العائلات	8	16	14	8	4

- (1) مثل السلسلة الإحصائية بمخطّط العصيات ثم أرسم مضلع التكرارات.
(2) أ/ حدّد منوال ومدى هذه السلسلة الإحصائية.
ب/ ما هو معدّل عدد أفراد العائلة الواحدة في هذه العينة.
ج/ حدّد موسّط هذه السلسلة الإحصائية.
- (3) إذا اخترنا من هذه العينة إحدى العائلات بصورة عشوائية. ما هو إحتمال أن يكون عدد أفرادها أكبر أو يساوي 5.

التمرين 3 :

الرسم البياني المقابل يمثل مضلع التواترات لسلسلة إحصائية كمية منقطعة.



- (1) حدّد منوال ومدى هذه السلسلة الإحصائية.
- (2) أنقل وأتمم الجدول التالي إذا علمت أنّ التكرار الجملي يساوي 25.

قيم المتغير	2		
التواتر (%)	20		
التكرار	5		

- (3) أحسب المعدّل الحسابي لهذه السلسلة الإحصائية.
- (4) حدّد موسّط هذه السلسلة الإحصائية.

التمرين 4 :

يحتوي كيس على 3 كويرات تحمل الرقم 5 وكويرتين تحمل الرقم 3. نعتبر التجربة العشوائية التالية: نقوم بسحب كويرة من الكيس، تسجيل الرقم المتحصل عليه في خانة الأحاد ودون إرجاعها نقوم بسحب كويرة ثانية وتسجيل الرقم المتحصل عليه في خانة العشرات لتتوصل على عدد مكون من رقمين.

- (1) بإستعمال شجرة اختيارات بين أن عدد جميع الامكانيات يساوي 20.
- (2) ما هو احتمال أن يكون العدد المتحصل عليه قابلاً للقسمة على 3.
- (3) ما هو احتمال أن يكون العدد المتحصل عليه قابلاً للقسمة على 5.
- (4) ما هو احتمال أن يكون العدد المتحصل عليه قابلاً للقسمة على 15.

التمرين 5 :

الجدول التالي يقدّم توزيع عيّنة مكونة من 100 شخص حسب زمرة الدم (groupe sangain).

المتغير: زمرة الدم	A	B	AB	O
التكرار: عدد الأفراد	30	20	5	45

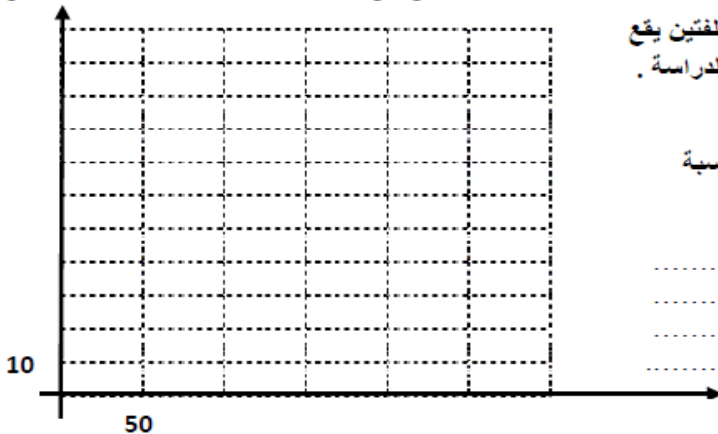
- (1) مثل هذه السلسلة الإحصائية بمخطط دائري.
- (2) نختار بصورة عشوائية، من هذه العيّنة أحد الأفراد ليتبرّع بالدم لفائدة فرد ثان من نفس هذه العيّنة. أ/ جد بإستعمال مبدأ الضرب، عدد الأزواج الممكن تكوينها. ب/ ما هو احتمال أن تكون زمرة دم المتبرع A وزمرة دم المتلقي B. ج/ ما هو احتمال أن يكون للفردين نفس زمرة الدم.

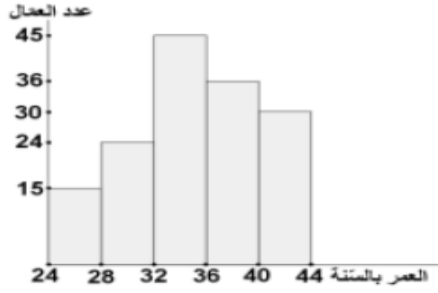
التمرين 6 :

يمثل الجدول التالي نتائج دراسة إحصائية خضعت لها 150 سيارة في احد مراكز الفحص الفني للسيارات حول نسبة الغاز الملوث للبيئة المنبعثة من كل منها في الجو (وحدة القيس هي g/km)

نسبة الغاز	[50 ; 70[[70 ; 90[[90 ; 110[[110 ; 130[
عدد السيارات	30	60	45	15
التواتر بالنسبة المئوية				
التكرار التراكمي الصاعد				
التواتر التراكمي الصاعد بالنسبة المئوية				

- (1) أ - أكمل تعميم الجدول ب - ماهي الفئة المنوال لهذه السلسلة
- (2) أ - أرسم مضع التواترات التراكمية الصاعدة بالنسبة المئوية ب - استنتج M_e متوسط هذه السلسلة $M_e =$
- (3) أراد القائمون بهذه الدراسة تقديم مكافأة مالية لسيارتين مختلفتين يقع اختيارهما بطريقة عشوائية من بين كل سيارات المشاركة في الدراسة . فتم اختيار سيارة أولى ثم ثانية . فما هو احتمال ان تكون السيارتان المختارتان يفوق أو يساوي نسبة الغاز المنبعث منهما $110g/km$





نقدّم من خلال المخطط التالي توزيعاً لـ 150 عاملاً بإحدى المؤسسات الصناعية حسب أعمارهم.

(1) أنقل الجدول التالي ثم أكمله بما يناسب :

[40;44[[36;40[[32;36[[28;32[[24;28[العمر بالسنة
				26	مركز الفئة
	36				التكرار (عدد العمال)
		56 %			التواتر التراكمي الصاعد بالنسبة المئوية

(2) احسب معدّل الأعمار بهذه المؤسسة الصناعية.

(3) أ) ارسم مضلع التواترات التراكمية الصاعدة بالنسبة المئوية.

ب) استنتج قيمة تقريبية لموسّط هذه السلسلة.

(4) تصّرف إدارة هذه المؤسسة منحة خصوصية للعمال الذين تجاوز سنّهم 36 سنة. إذا اخترنا بصفة عشوائية عاملاً من هذه المؤسسة، فما هو احتمال أن تشمله هذه المنحة؟

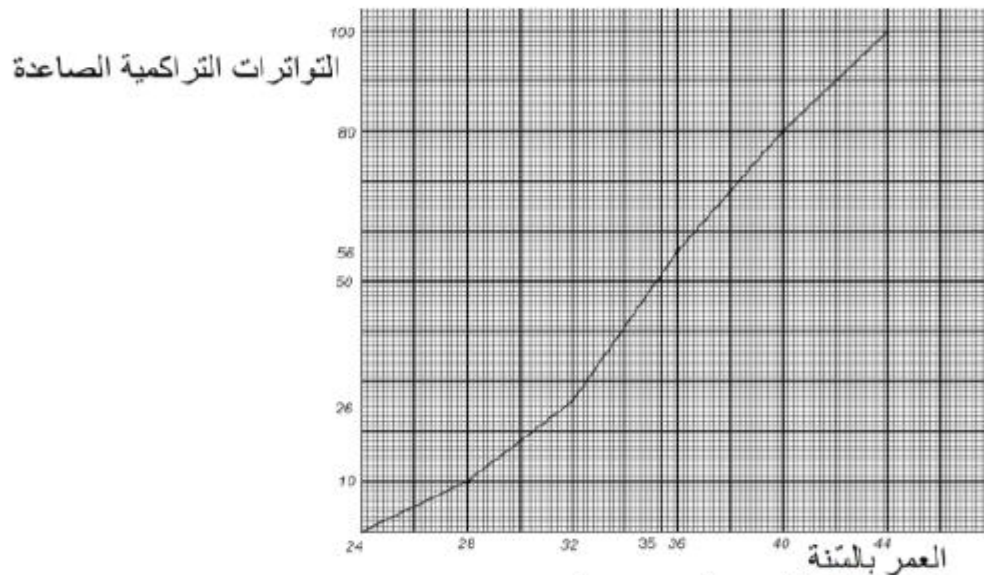
الإصلاح :

[40,44[[36,40[[32,36[[28,32[[24,28[العمر بالسنة
42	38	34	30	26	مركز الفئة
30	36	45	24	15	التكرار (عدد العمال)
100%	80%	56%	26%	10%	التواتر التراكمي الصاعد بالنسبة المئوية

(2) معدّل أعمار العمال بهذه المؤسسة الصناعية :

$$150 = 26 \times 15 + 30 \times 24 + 34 \times 34 + 38 \times 36 + 42 \times 30$$

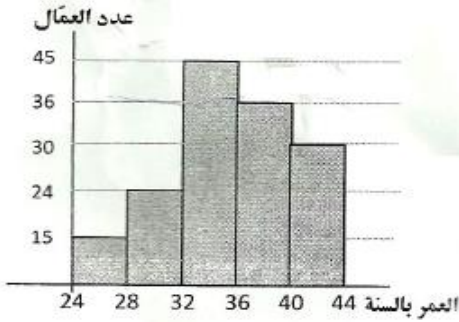
(3) أ- مضلع التواترات التراكمية الصاعدة بالنسبة المئوية :



ب- موسّط هذه السلسلة الإحصائية هو تقريباً 35.

(4) إذا اخترنا بصفة عشوائية عاملاً من هذه المؤسسة فاحتمال أن تشمله هذه المنحة هو 44%

$$\left(\frac{66}{150} = 0.44 = \frac{44}{100}\right)$$



تقدّم من خلال المخطط التالي توزيعاً لـ 150 عاملاً بإحدى المؤسسات الصناعيّة حسب أعمارهم.

(1) أنقل الجدول التالي ثم أكمله بما يناسب :

العمر بالسنة	[24 ; 28[[28 ; 32[[32 ; 36[[36 ; 40[[40 ; 44[
مركز الفئة	26				
التكرار (عدد العمال)				36	
التواتر التراكمي الصاعد بالنسبة المئوية			56 %		

(2) أحسب معدّل أعمار العمال بهذه المؤسسة الصناعيّة.

(3) أ) أرسم مضلع التواترات التراكمية الصاعدة بالنسبة المئوية.

ب) إستنتج قيمة تقريبية لموسّط هذه السلسلة.

(4) تصرّف إدارة هذه المؤسسة منحةً خصوصيّة للعمال الذين تجاوز سنّهم 36 سنة

إذا اخترنا بصفة عشوائيّة عاملاً من هذه المؤسسة، فما هو احتمال أن تشمله هذه المنحة ؟

الإصلاح :

1- تعبّر الجدول :

العمر بالسنة	[24; 28[[28; 32[[32; 36[[36; 40[[40; 44[
مركز الفئة	26	30	34	38	42
التكرار (عدد العمال)	15	24	45	36	30
للتكرار التراكمي الصاعد	15	39	84	120	150
التواتر التراكمي الصاعد %	10%	26%	56%	80%	100%

2- معدّل أعمار العمال بهذه المؤسسة الصناعيّة :

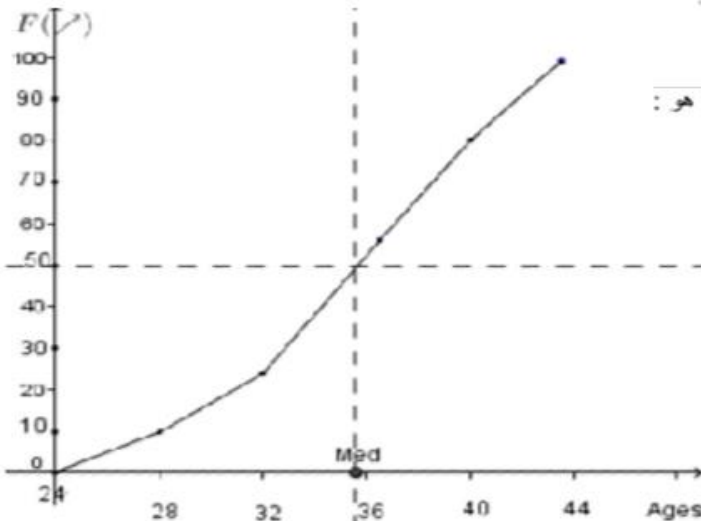
$$\bar{X} = \frac{26 \times 15 + 30 \times 24 + 34 \times 45 + 38 \times 36 + 42 \times 30}{150} = \frac{5268}{150} = 35,12$$

3- (أ) مضلع التواترات التراكمية الصاعدة بالنسبة المئوية :

(ب) لقيمة التقريبية لموسّط هذه السلسلة هي : $M_e = 35$

4- احتمال أن تشمل العامل الذي وقع اختياره بصفة عشوائية هذه المنحة هو :

$$\frac{36 + 30}{150} = \frac{66}{150} = 0,44 = 44\%$$



جبر - معادلات - متراجحات - مقارنة -

التمرين 1 :

(1) نعتبر العدد الحقيقيين $a = 4 - 3\sqrt{12} + \sqrt{48}$ و $b = (1 + \sqrt{3})^2$

(2) بيّن أن $a = 4 - 2\sqrt{3}$ و $b = 4 + 2\sqrt{3}$

(3) أ) قارن بين $2\sqrt{3}$ و 4 ثم استنتج علامة العدد a

ب) بيّن أن $a \times b = 4$

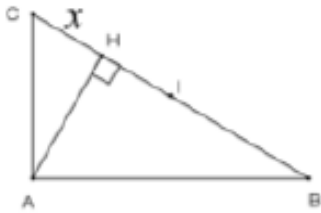
ج) استنتج أن $\sqrt{\frac{a}{b}} = 2 - \sqrt{3}$

(4) ليكن العدد الحقيقي $c = \sqrt{a} - \sqrt{b}$

أ) بيّن أن العدد c سالب.

ب) احسب c^2 ثم استنتج c .

التمرين 2 :



(وحدة قياس الطول هي السنتمتر)

• ABC مثلث قائم في A و I منتصف $[BC]$

• H المسقط العمودي لـ A على (BC)

• $BC = 6$ و $AH = \frac{3\sqrt{3}}{2}$ و $CH = x$ حيث x عدد حقيقي موجب.

(1) بيّن أن $AH^2 = x(6-x)$ ثم استنتج أن العدد الحقيقي x يحقق المساواة : $x^2 - 6x + \frac{27}{4} = 0$

(2) بيّن أن $x^2 - 6x + \frac{27}{4} = (x - \frac{3}{2})(x - \frac{9}{2})$

(3) استنتج CH ثم احسب AB .

التمرين 3 :

يلي كل سؤال ثلاث إجابات، إحداهما فقط صحيحة.

انقل، في كل مرة، على ورقة تحريرك رقم السؤال و الإجابة الصحيحة الموافقة له.

(1) عدد الأعداد الصحيحة الطبيعية الزوجية ذات ثلاثة أرقام مختلفة من بين 4 و 5 و 6 و 7 هو :

أ) 6 ب) 12 ج) 24

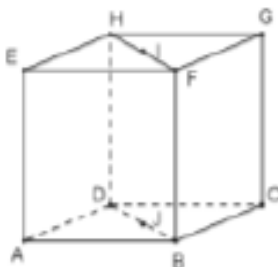
(2) x عدد حقيقي حيث $|x-3| < 4$. مدى هذا الحصر هو :

أ) 4 ب) 7 ج) 8

(3) في الرسم المقابل، لدينا $ABCDEFGH$ مكعب حيث I منتصف $[EG]$ و J منتصف $[AC]$.

المستقيم (FH) عمودي على المستوي :

أ) (ADH) ب) (EGC) ج) (HIJ)



التمرين 4 :

يلي كل سؤال ثلاث إجابات إحداها فقط صحيحة.
أنقل في كل مرة على ورقة تحريرك رقم السؤال والإجابة الصحيحة الموافقة له.

(1) يكون العدد $7b8a$ حيث a و b رقمان، قابلا للقسمة على 15 في حالة:

أ/ $a = 0$ و $b = 1$ ب/ $a = 3$ و $b = 3$ ج/ $a = 5$ و $b = 1$.

(2) عدد الأعداد الفردية ذات ثلاثة أرقام مختلفة من بين: 6 و 7 و 8 و 9 هو:
أ/ 6 ب/ 12 ج/ 24

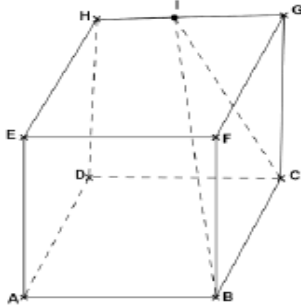
(3) عدد حلول المعادلة $\frac{x}{\sqrt{2}} = \frac{\sqrt{2}}{x}$ في R هو:

أ/ 0 ب/ 1 ج/ 2

(4) إذا كان $ABCDEF GH$ مكعبا و $I = H * G$ فإنّ المثلث IBC

أ/ متقايس الأضلاع ب/ متقايس الضلعين

ج/ قائم الزاوية



التمرين 5 :

نعتبر العددين الحقيقيين: $a = (2 + \sqrt{3})^2$ و $b = 3 - 4(\sqrt{3} + 1)(2 - \sqrt{3})$

(1) أ/ بيّن أنّ: $a = 7 + 4\sqrt{3}$ و $b = 7 - 4\sqrt{3}$

ب/ قارن بين 7 و $4\sqrt{3}$ واستنتج علامة العدد b .

(2) أ/ بيّن أنّ b هو مقلوب العدد a وأنّ $a + b = 14$

ب/ استنتج أنّ $\sqrt{a} + \sqrt{b} = 4$

(3) ليكن العدد $c = \sqrt{b} - \sqrt{a}$

أ/ بيّن أنّ c عدد سالب

ب/ أحسب c^2 واستنتج c .

التمرين 6 :

لتكن العبارة: $A = x^2 - 40x + 384$ حيث x عدد حقيقي

(1) أحسب القيمة العددية للعبارة A في كل من الحالتين التاليتين:

أ/ $x = 20$ ب/ $x = 16$

(2) أ/ أنشر واختصر العبارة $(x - 20)^2$

ب/ استنتج أنّ: $A = (x - 20)^2 - 16$

ج/ فكك العبارة A إلى جذاء عوامل

د/ حلّ في R المعادلة: $A = 0$

(3) (وحدة قيس الطول هي المتر)

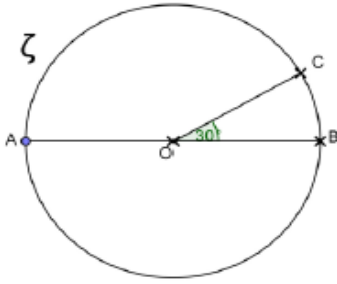
في هذا السؤال نريد البحث عن بعدي مستطيل محيطه 80 م ومساحته 384 م^2 .

أ/ ليكن a أحد بعدي هذا المستطيل. تحقق أنّ $40 - a$ هو البعد الثاني

ب/ بيّن أنّ a هو حل المعادلة $x^2 - 40x + 384 = 0$

ج/ استنتج بعدي المستطيل.

التمرين 7 :



(1) نعتبر العددين الحقيقيين: $a = \frac{\sqrt{3}+1}{\sqrt{2}}$ و $b = \frac{\sqrt{3}-1}{\sqrt{2}}$

أ/ أحسب ab و $a+b$

ب/ برهن أن $a^2 = 2 + \sqrt{3}$ و $b^2 = 2 - \sqrt{3}$

ج/ استنتج أن $\frac{a}{b} + \frac{b}{a}$ هو عدد صحيح طبيعي

(2) في الرسم المقابل: ζ دائرة مركزها O وشعاعها 1 و [AB] قطر لها.

الهدف في هذا السؤال حساب AC و BC.

المستقيم العمودي على (AB) والمار من C يقطع (AB) في H ويقطع ζ في D.

أ/ ما هي طبيعة المثلث OCD؟ علل جوابك.

ب/ استنتج أن $HC = \frac{1}{2}$ و أن $OH = \frac{\sqrt{3}}{2}$

ج/ بين أن $BC = b$

د/ بين أن $\triangle ABC$ قائم الزاوية واستنتج أن $AC = a$.

التمرين 8 :

نعتبر العبارة: $A = -\frac{2}{3}(3x-6) - x - 1$ حيث x عدد حقيقي.

(1) أ/ بين أن $A = -3x + 3$.

ب/ حل في R المتراحة $A \geq 0$.

(2) لتكن العبارة $B = x^2 - (1 + \sqrt{3})x + \sqrt{3}$ حيث x عدد حقيقي.

أ/ أحسب القيمة العددية للعبارة B في حالة $x = \sqrt{3}$.

ب/ بين أن: $B = (x-1)(x-\sqrt{3})$.

(3) أ/ بين أن: $B - A = (x-1)(x-\sqrt{3}+3)$

ب/ أوجد الأعداد الحقيقية x بحيث $A = B$

التمرين 9 :

نعتبر العددين الحقيقيين $a = 9 + 4\sqrt{5}$ و $b = 9 - 4\sqrt{5}$

(1) أ/ بين أن العدد a مقلوب العدد b

ب/ أحسب a^2 و b^2

(2) أ/ بين أن $\frac{a}{b} + \frac{b}{a} = 322$

ب/ استنتج أن العدد $c = \sqrt{\frac{a}{b}} + \sqrt{\frac{b}{a}}$ هو عدد صحيح طبيعي

(3) ليكن العدد: $d = (a+1)^{-1} + (b+1)^{-1}$

أ/ بين أن $d = \frac{a+b+2}{ab+a+b+1}$

ب/ استنتج أن $d = 1$.

التمرين 10 :

لتكن العبارة $A = (\sqrt{2} + 1)(x - \sqrt{2}) - (\sqrt{2} - 1)(x + \sqrt{2})$ حيث x عدد حقيقي.

(1) أ/ أنشر واختصر العبارة A لتبين أن: $A = 2(x - 2)$.

ب/ حل في R المتراحة: $A \leq \sqrt{2} - 2$

(2) لتكن العبارة $B = (2x - \sqrt{2})^2 + 4x^2 - 2$ حيث x عدد حقيقي

أ/ فكك العبارة B إلى جذاء عوامل لتبين أن $B = 4x(2x - \sqrt{2})$

ب/ حل في R المعادلة $B = 0$.

(3) أوجد الأعداد الحقيقية x بحيث $\frac{B}{A} = -2\sqrt{2}$.

12

التمرين 11 :

(1) نعتبر العددين الحقيقيين $a = 5\sqrt{2} - 4\sqrt{3}$ و $b = 5\sqrt{2} + 4\sqrt{3}$ أ/ حدّد علامة العدد a .

ب/ برهن أن $ab = 2$ و $a + b = 10\sqrt{2}$ و $b - a = 8\sqrt{3}$

(2) ليكن العددين: $X = a^2 + b^2$ و $Y = b^2 - a^2$

استنتج من السؤال السابق أن: $X = 196$ و $Y = 80\sqrt{6}$

(3) ليكن العدد الحقيقي: $Z = (3a + 2b)^2 + (2a - 3b)^2$

بين أن $Z = 13X$ واستنتج القيمة العددية لـ Z .

التمرين 12 :

نعتبر العبارة $A = 3x^2 + 8$ حيث x عدد حقيقي.

(1) أحسب القيمة العددية للعبارة A في كل من الحالتين التاليتين:

أ/ $x = 0$ ب/ $x = \sqrt{2} - 1$

(2) أ/ بين أن: $A - 875 = 3(x - 17)(x + 17)$

ب/ استنتج العدد الصحيح الطبيعي x بحيث $A = 875$.

(3) أ/ بين أن: $A = (x - 2)^2 + x^2 + (x + 2)^2$

ب/ استنتج ثلاثة أعداد صحيحة طبيعية فردية متتالية مجموع مربعاتها 875.

التمرين 13 :

نعتبر العددين الحقيقيين: $a = \sqrt{3}(\sqrt{3} - 1) - (1 + 2\sqrt{3})(2 - \sqrt{3})$ و $b = (2 + \sqrt{3})^2$

(1) أ/ بين أن $a = 7 - 4\sqrt{3}$ و $b = 7 + 4\sqrt{3}$

ب/ بين أن a مقلوب العدد b واستنتج علامة العدد a .

(2) ليكن العدد الحقيقي: $c = \frac{a}{b} + \frac{b}{a}$

أ/ بين أن $c = (a + b)^2 - 2ab$

ب/ استنتج القيمة العددية لـ c .

(3) ليكن العدد الحقيقي: $d = \sqrt{a} + \sqrt{b}$

أ/ بين أن $d^2 = a + b + 2$

ب/ استنتج d ثم \sqrt{a} .

التمرين 14 :

وحدة قياس الطول هي الصنتمتر)

ليكن ABC مثلثا حيث $AB = 4$; $AC = 4\sqrt{3}$ و $BC = 8$.

- (1) بيّن أنّ المثلث ABC قائم الزاوية في A .
(2) لتكن M نقطة على $[AB]$ حيث $BM = x$ (عدد حقيقي يحقق $0 < x < 4$)

المستقيم المار من M والعمودي على (AB) يقطع (BC) في N .
أ/ أنجز الرّسم.

ب/ بيّن أنّ: $MN = \sqrt{3}.x$

ج/ لتكن a مساحة المثلث AMN . بيّن أنّ $a = \frac{\sqrt{3}}{2}x(4-x)$

(3) أ/ بيّن أنّ: $2\sqrt{3} - a = \frac{\sqrt{3}}{2}(x-2)^2$

ب/ استنتج أنّ $0 < a \leq 2\sqrt{3}$

- (4) أ/ جد قيمة العدد x ليكون قياس مساحة المثلث AMN بالصنتمتر مربع مساويا لـ $2\sqrt{3}$.
ب/ حدّد في هذه الحالة موقع النقطة M على $[AB]$ وموقع النقطة N على $[BC]$.

التمرين 15 :

(1) نعتبر العددين الحقيقيين: $a = (3 + \sqrt{2})(2 - \sqrt{2}) + (3 + \sqrt{2})^2$ و $b = (\sqrt{5} + 2)^2 + (\sqrt{5} - 1)^2$

أ/ بيّن أنّ $a = 15 + 5\sqrt{2}$ و $b = 15 + 2\sqrt{5}$

ب/ قارن $5\sqrt{2}$ و $2\sqrt{5}$ واستنتج مقارنة a و b .

(2) نعتبر العددين الحقيقيين: $c = 8 - 2\sqrt{7}$ و $d = 6 - 2\sqrt{5}$

أ/ بيّن أنّ $c - d = 2(1 + \sqrt{5} - \sqrt{7})$

ب/ قارن العددين $(1 + \sqrt{5})^2$ و $(\sqrt{7})^2$ واستنتج مقارنة العددين c و d .

ج/ بيّن أنّ $c = (\sqrt{7} - 1)^2$ و $d = (\sqrt{5} - 1)^2$ واستنتج مقارنة c و d بطريقة أخرى.

التمرين 16 :

وحدة قياس الطول هي الصنتمتر

في الرسم المقابل لدينا:

- ABC مثلث قائم في A .

- H المسقط العمودي للنقطة A على (BC) .

- $AB = 2\sqrt{3}$ و $CH = \sqrt{2}x$ و $BH = x$ (حيث x عدد حقيقي موجب)

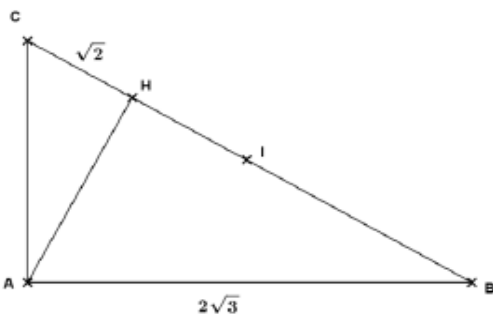
(1) بيّن أنّ: $AH^2 = \sqrt{2}x$ و $AH^2 = 12 - x^2$

(2) استنتج أنّ العدد x هو حل للمعادلة: $x^2 + \sqrt{2}x - 12 = 0$

(3) أ/ بيّن أنّ $x^2 + \sqrt{2}x - 12 = \left(x + \frac{\sqrt{2}}{2}\right)^2 - \left(\frac{5\sqrt{2}}{2}\right)^2$

ب/ حلّ في IR المعادلة: $x^2 + \sqrt{2}x - 12 = 0$

(4) استنتج BH وأحسب AC .

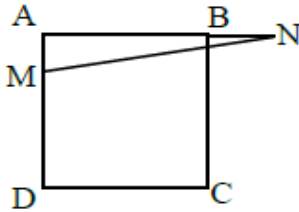


التمرين 17 :

- (I) نعتبر العبارتين A و B التاليتين حيث x عدد حقيقي
- $$B = x^2 - 4x + 3 \quad \text{و} \quad A = 2x^2 - 4x + 2$$
- (1) أحسب القيمة العددية لـ A و B إذا كان $x = 1 - \sqrt{2}$
- (2) أثبت أن $B = (x - 2)^2 - 1$
- (3) أكتب كلا من A و B في صيغة جداء
- (4) حل في \mathbb{R} المعادلتين $A = 2$ و $B = 0$
- (5) أثبت أن $A + B = (3x - 5)(x - 1)$ و $B - A = 1 - x^2$
- (6) حل في \mathbb{R} المعادلتين $A + B = 0$ و $B = A$
- (II) نعتبر العدد الحقيقي x حيث $|x| \leq 3$
- (1) أوجد حصر الكلا من $\frac{x}{3} + 5$ و $2x - 8$
- (2) إختصر العبارة التالية $E = |2x - 8| - \left| \frac{x}{3} + 5 \right|$
- (3) حل المتراجحة $|E| \leq 5$

14

التمرين 18 :



- (1) نعتبر العبارة I التالية $I = x^2 + 2x - 8$
- أثبت أن $I = (x - 2)(x + 4)$ ثم حل في \mathbb{R} المعادلة $I = 0$
- (2) ليكن ABCD مربعا طول ضلعه 4 صم و M نقطة من [AD] حيث $AM = x$ و لتكن N نقطة من [AB] و لا تنتمي للقطعة [AB] حيث $BN = 2x$
- أ - أحسب مساحة المثلث AMN بدلالة x
- ب- أوجد x حيث مساحة المثلث AMN تساوي نصف مساحة المربع ABCD
- ج- عين على [BA] نقطة P و لا تنتمي للقطعة [AB] حيث $AP = 2x$ و النقطة E منتصف [DC] إلى أي مجال ينتمي x حيث مساحة المثلث AMN أصغر أو مساوية لمجموع مساحتي المثلثين AMP و ADE

التمرين 20 :

- نعتبر العبارتين A و B التاليتين حيث x عدد حقيقي
- $$B = x^2 - 6x + 9 + (x + 4)(x - 3) \quad \text{و} \quad A = (x - 5)^2 - 4$$
- (1) أنشر و اختصر العبارة A
- (2) أحسب القيمة العددية لـ A في كلا من الحالتين
- (3) أ- أكتب كلا من A و B في صيغة جداء
- ب- حل في \mathbb{R} المعادلتين $A = 21$ و $A + B = 0$
- (4) حل في \mathbb{R} المتراجحة $A \leq 11 + x^2$

التمرين 19 :

- (1) نعتبر العادان الحقيقيان x و y حيث $|x| \leq 3$ و $|y| \leq 2$
- أ- أوجد حصر الكلا من x و y
- ب- أوجد حصر الـ $x + 4$ و $2y - 5$
- ت- استنتج حصر الـ $\frac{x+4}{2y-5}$
- (2) أ- أثبت أن xy ينتمي للمجال $[-6; 6]$