

المدرسة الإعدادية بني مطير

9 أساسي.....

فرض مراقبة عدد 3
في التربية التكنولوجية

الأستاذ : حسان السايحي


الاسم:.....

اللقب:.....

الضارب: 1

التوقيت: 30 دق

التاريخ:



تمرين ع 1 - عدد: ضع العلامة (X) في القواعد الصحيحة

* خطوط التخديش لا تقطع الخط السميك المستمر

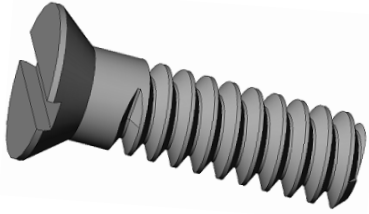
* خطوط التخديش تقطع الخط السميك المستمر

* خطوط التخديش تقطع الخط الرقيق المتقطع

* خطوط التخديش لا تقطع الخط الرقيق المتقطع

* في الترقيم يكتب البعد فوق خط البعد عندما يكون عمودي

* في الترقيم يكتب البعد فوق خط البعد عندما يكون عمودي

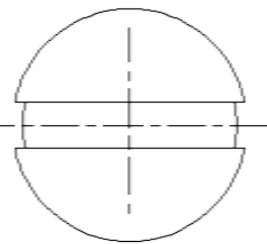
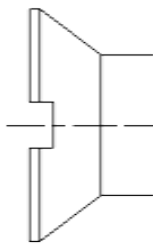
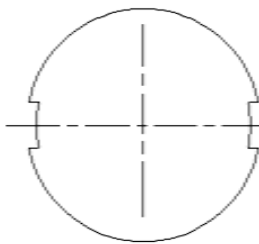


تمرين ع 2 - عدد : لتثبيت الأشياء نستعمل القطعة التالية:

(أ) - ماهو اسم هذه القطعة؟.....

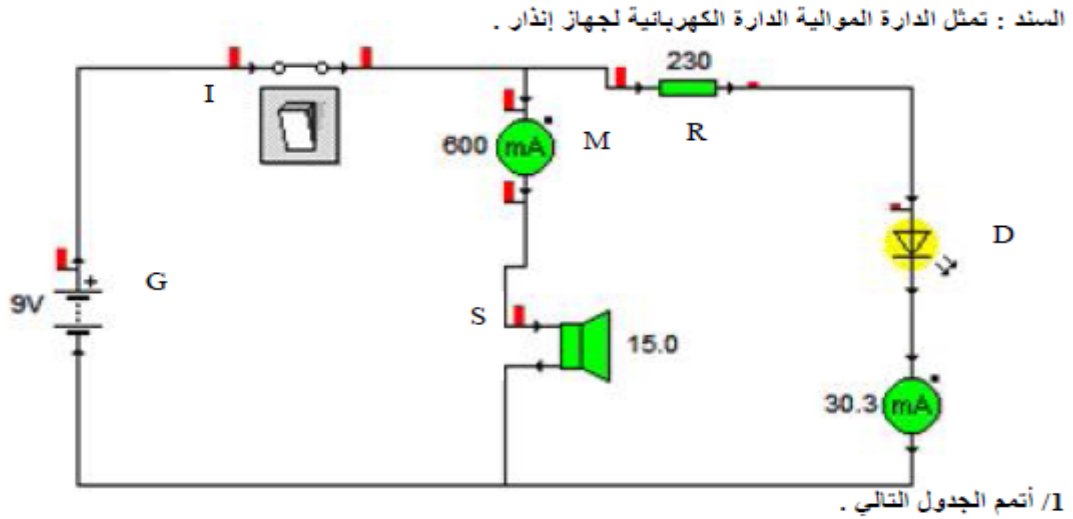
(ب) - ابحث عن قطر قاع اللولب d_2 إذا علمت أن القطر الأكبر d_1 يساوي 18 مم

.....

(ج) - أتمم الرسم التقني لهذه القطعة بالاعتماد على المعطيات التالية . $L = 50$ $X = 40$ 

تمرين عـ 3 دد :

1-أرسم دائرة كهربائية تحتوي على منبه صوتي:



رمز المكون	M	S	D	R
إسم المكون
الوظيفة

2 / أظف في الدارة جهاز القيس المناسب لتقيس فرق الجهد بين قطبي المكون D .

3 / ما إسم هذا الجهاز

4 / ما قيمة شدة التيار الذي يمر في المكون S , حولها إلى الأمبير .

$$I = \dots\dots\dots = \dots\dots\dots$$

5 / لو نحذف العنصر R من الدارة ما تأثير هذا على المكون D .

