

الأسئلة :

السؤال الأول: ( 08 ن / )

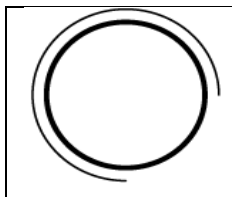
(1) أكمل الفراغ بما يناسب :



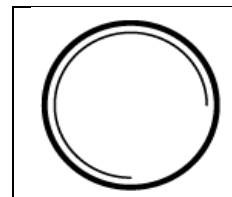
قطع تحتوي على .....

قطع تحتوي على .....

(2) أذكر نوع اللولب الموجود على كل قطعة حسب رسمها المقنن



لولب .....



لولب .....


(3) ماذا تعني هذه الصيغة :

M16 \_RH

السؤال الثاني: ( 12 ن / )

\* القطعة من مادة الفولاذ

\* السلم : 1:1



أتمم رسم المستطين: الرأس والعلوي.  
أتمم القطع A-A  
أضغ الترقيم المناسب للولب.

