


الاسم واللقب :	فرض تأليفي عدد 1	مادة التربية التكنولوجية
القسم : 7 أ		التوقيت : ساعة
رقم :		

1) أذكر أسماء المكونات التالية للحاسوب ثم ضع علامة (X) في الخانة المناسبة: (4 ن)

عنوان نشر معلومات للحاسوب	عنوان إدخال معلومات للحاسوب	اسم المكون	الصورة رقم
.....	1
.....	2
.....	3
.....	4



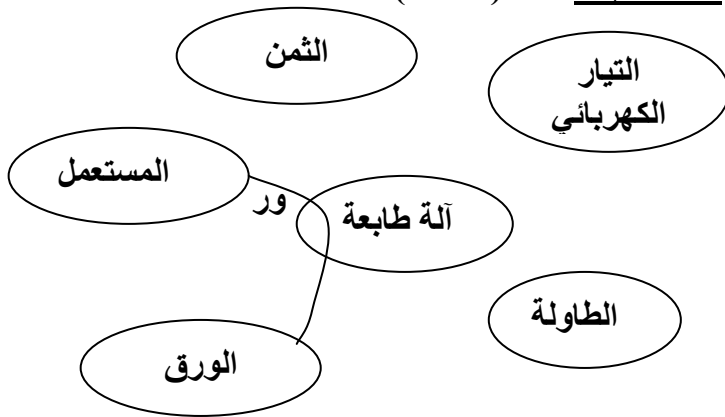
2) أكمل مكان النقاط اسم النشاط أو رمزه بما يناسب من دورة حياة المنتج (2 ن)

.....	A6
تحليل الحاجة

التصنيع
.....	A4

3) أ - أتمم كل من الآداتين التاليتين بما يناسب

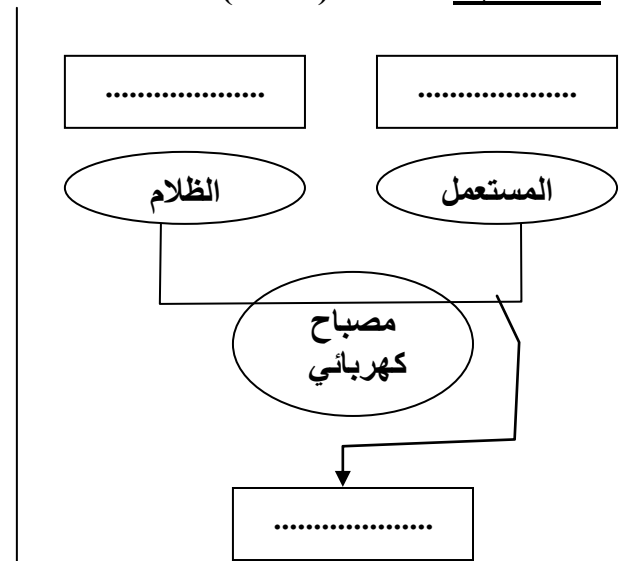
الأداة رقم 2 (1.5 ن)



قدم الصياغة المناسبة لوظائف الخدمات التالية (2 ن)

.....	ور
.....	وت1
.....	وت2
.....	وت3

الأداة رقم 1 (1.5 ن)

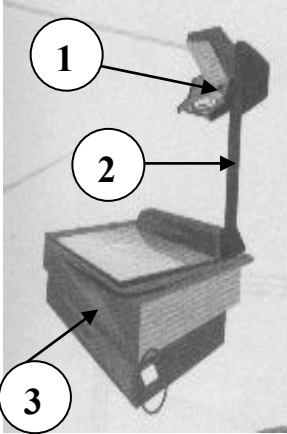


يمكن المستعمل من الإنارة في الظلام

ب- ضع علامة (X) في الخانة المناسبة لاسم كل أداة (1 ن)

أداة التعبير الوظيفي	أداة التعبير على الحاجة	
		الأداة رقم 1
		الأداة رقم 2

4) اعتمادا على الصورة التالية أكمل الفراغ باسم المادة المناسبة من بين المواد التالية ثم ضع علامة (X) في الخانة المناسبة : خشب ' بلور ' زهر ' بلاستيك ' فولاذ ' نحاس ' ألومينيوم (3 ن)



غير معدني	معدني	اسم المادة	
		المرآة رقم 1
		المصعد رقم 2
		العلبة رقم 3

5) أكمل الجمل التالية بما يناسب من كلمات (2 ن)

- الألومينيوم هو مادة لأنه ناقل للتيار الكهربائي ولكنه غير لأنه لا يجذب بالمغناطيس
- الفولاذ هو مادة حديدية لأنه وهو مادة معدنية لأنه

6) أ - ما هو اسم المكوّن المستعمل للتحكم بجرس المنزل : (0.5 ن)

- ما هو اسم المكوّن المستعمل للتحكم بمصباح المنزل : (0.5 ن)

ب- قدّم الرمز المناسب للقاطعة والزر الضاغط (2 ن)

الزر الضاغط	رمز القاطعة	المكوّن
		الرمز

بالتوفيق