

الاسم :

اللقب :

الرقم :

الفصل 7 أساسي...

اختبار كتابي ع3 دد المادة: تربية تكنولوجية

المدرسة الإعدادية
ببرنوصة

20

الضارب : 1

التوقيت : 30 دق

التاريخ: .../.../.....

1 - أنجز على الشبكة رسما ثلاثي الأبعاد لهذه القطعة بالخصائص التالية:

قياسات الأضلاع :

$$AB = 60 \text{ مم}$$

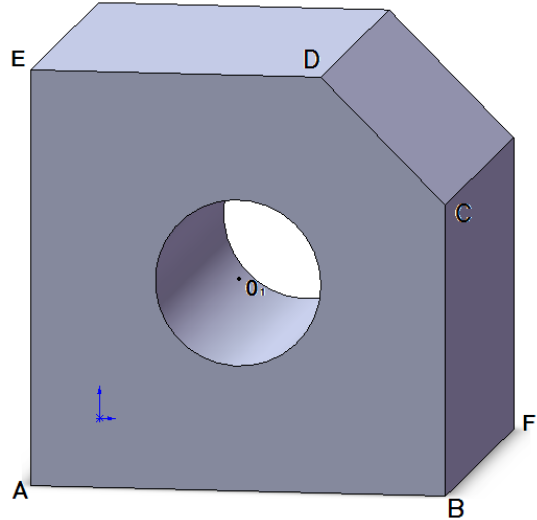
$$BC = 50 \text{ مم}$$

$$DE = 50 \text{ مم}$$

$$EA = 60 \text{ مم}$$

$$BF = 50 \text{ مم}$$

- قطر الثقب 20 مم

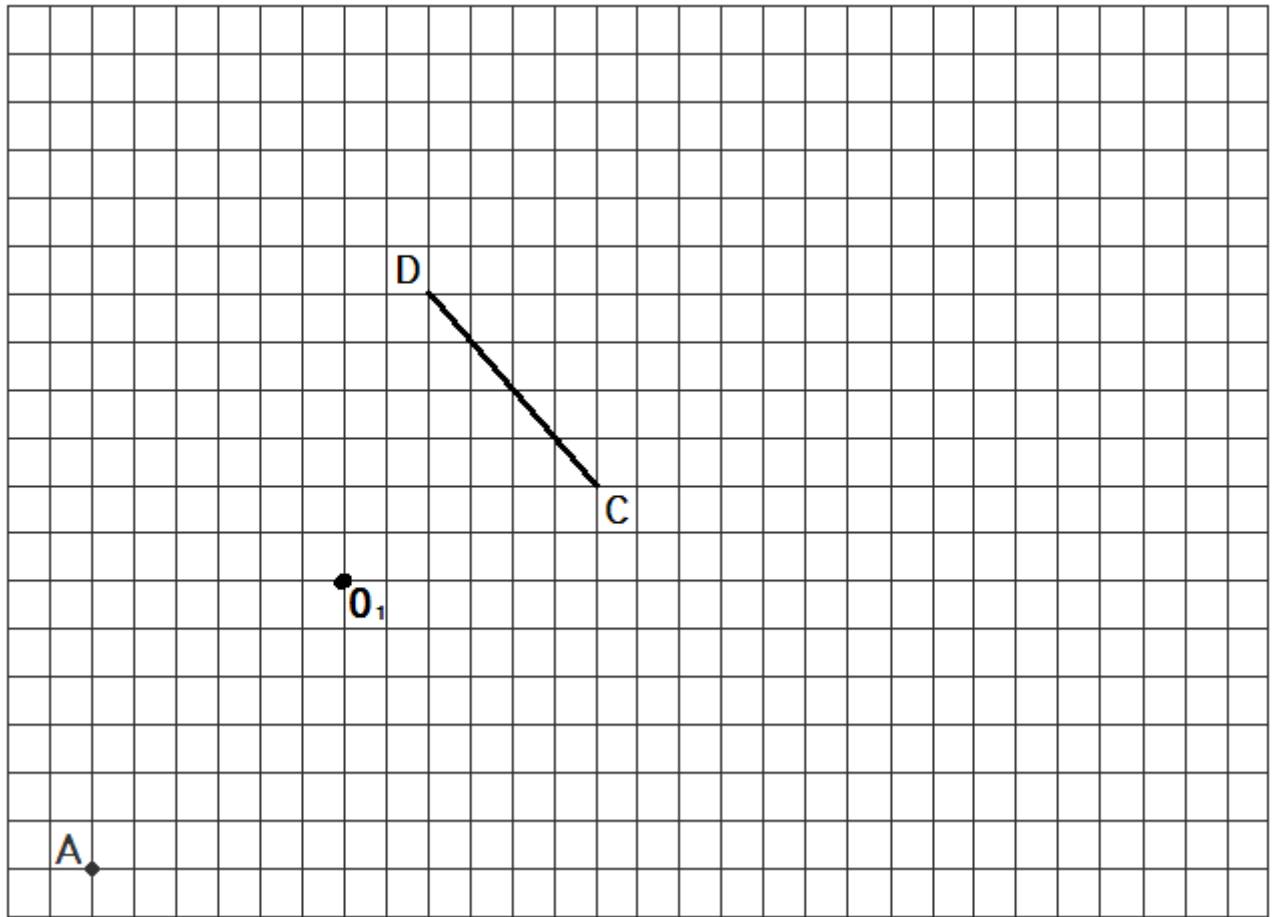


/10

الوجه الأمامي للرّسم: (ABCDE). اتجاه النّظر بزاوية 45°

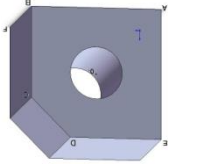
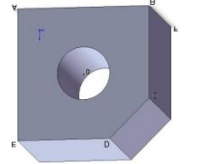
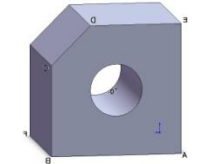
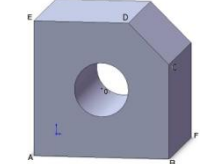
$K = 0,7$ سلم الرّسم 1:1

* أحسب طول الخطوط المائلة:



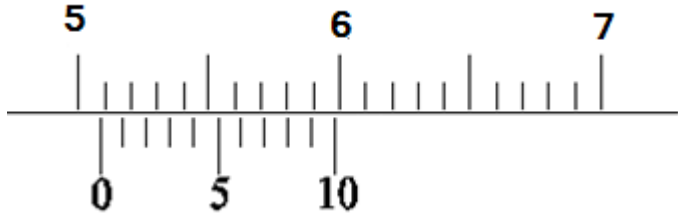
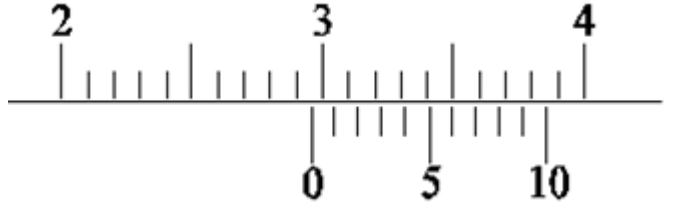
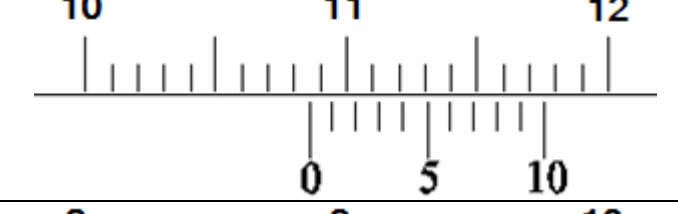
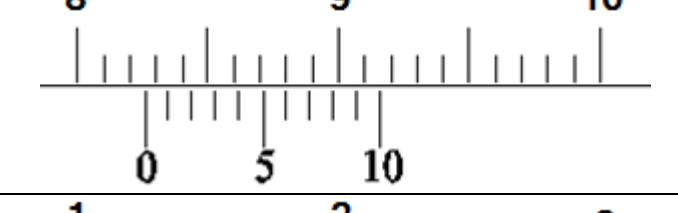
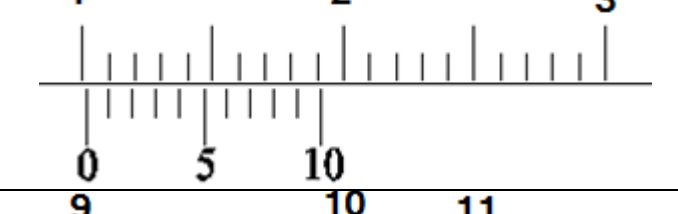
2 - حدد اتجاه النظر و رمزه بتعمير الجدول التالي:

/04

				
.....	اتجاه النظر
				الرمز

3 - استعملنا القدم الزالق لإنجاز بعض القياسات فتحصلنا على ما يلي: اقرأ هذه القياسات.

/06

القراءة بالمليمتر	القياس
.....	
.....	
.....	
.....	
.....	
.....	