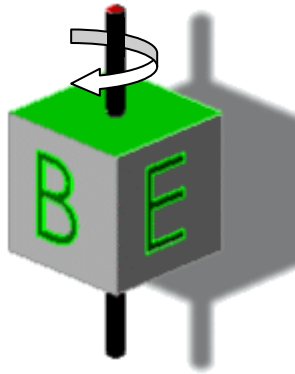
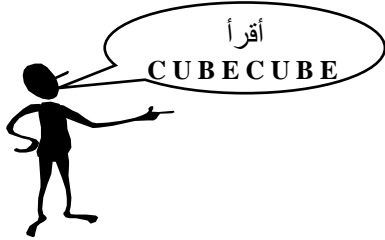
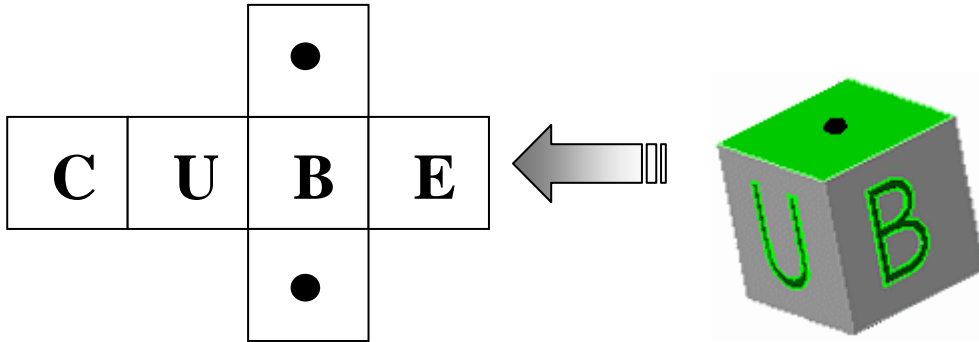


رسم أحد التلاميذ رسم ثلاثي الأبعاد (منظوري) لمكعب و كتب كلمة CUBE على الأوجه الجانبية ونقطة سوداء على الوجه العلوي والسفلي كما هو موضّح في الرسم المنشور لهذا المكعب.



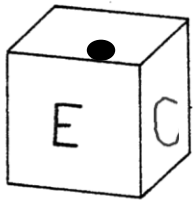
لنتصوّر أن محورا يمرّ عبر المكعب من خلال النقاط السوداء و كلّمنا أدّرنّا المكعب حوله يمكننا من قراءة بالترتيب الحروف C,U,B,E .

العمل المطلوب:

الرسوم التالية تمثل رسم ثلاثي الأبعاد للمكعب في عدّة وضعيات :

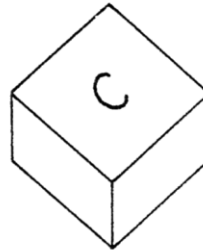
- أكمل وضع الحروف والنقاط السوداء على أوجه المكعب مع احترام ترتيب الحروف (يجب أن نقرأ دائما

كلمة CUBE).

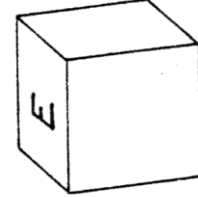


مثال

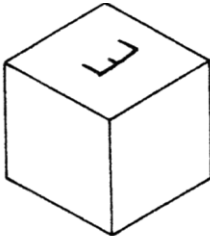
/0,5



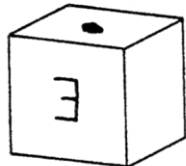
/0,5



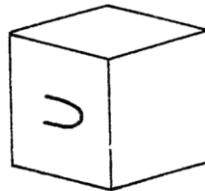
/0,5



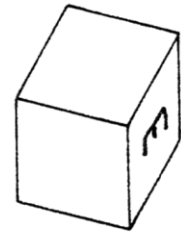
/0,5



/0,5



/0,5



/0,5