

الاسم.....
اللقب.....
القسم.....
الفوج.....

اختبار كتابي عدد
في مادة التربية التكنولوجية

لمدرسة الإعدادية
2011 ⊕ 2010
للخضراء سبيطة

العدد للمدة 20

التوقيت 30 دقيقة

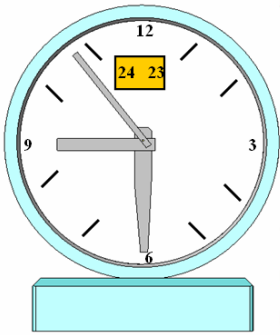
التاريخ.....

6

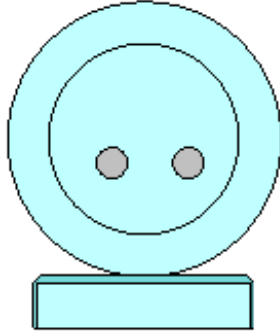
تمرين عدد 1 أ - تساعد لوحة الدارة المطبوعة على وصل المكونات الإلكترونية وتساهم في تقليص حجم الجهاز . ما هي القواعد أو الشروط التي يجب العمل بها ليحمي العامل نفسه من أخطار المواد الكيميائية التي يستعملها .

.....
.....
.....

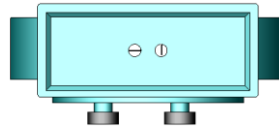
تمرين عدد 2 أشاهد الرسم الثلاثي الأبعاد لساعة المكتب و أكتب كل رقم في المستطيل المناسب مع اعتبار الرسم عدد 5 مسقطا رأسيًا .



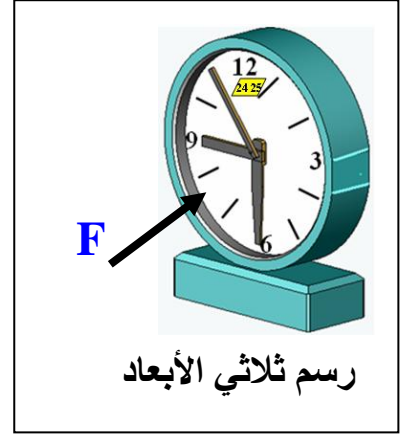
5



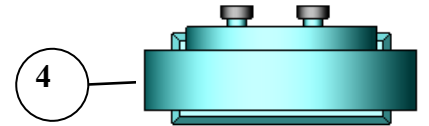
2



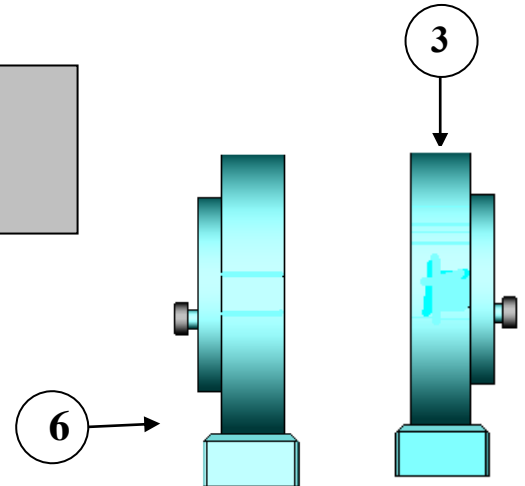

1



رسم ثلاثي الأبعاد



4

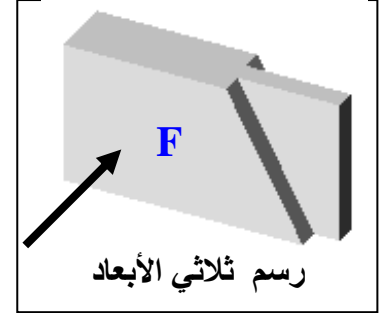
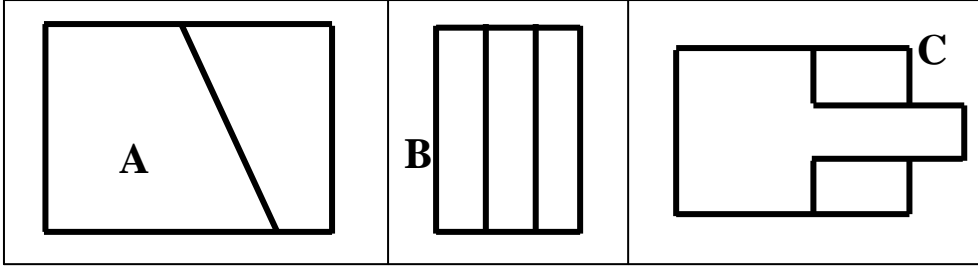


6

6

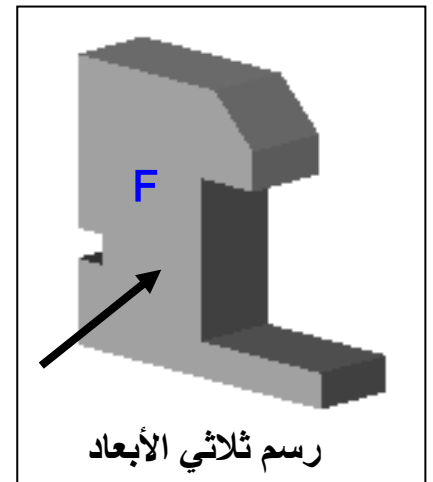
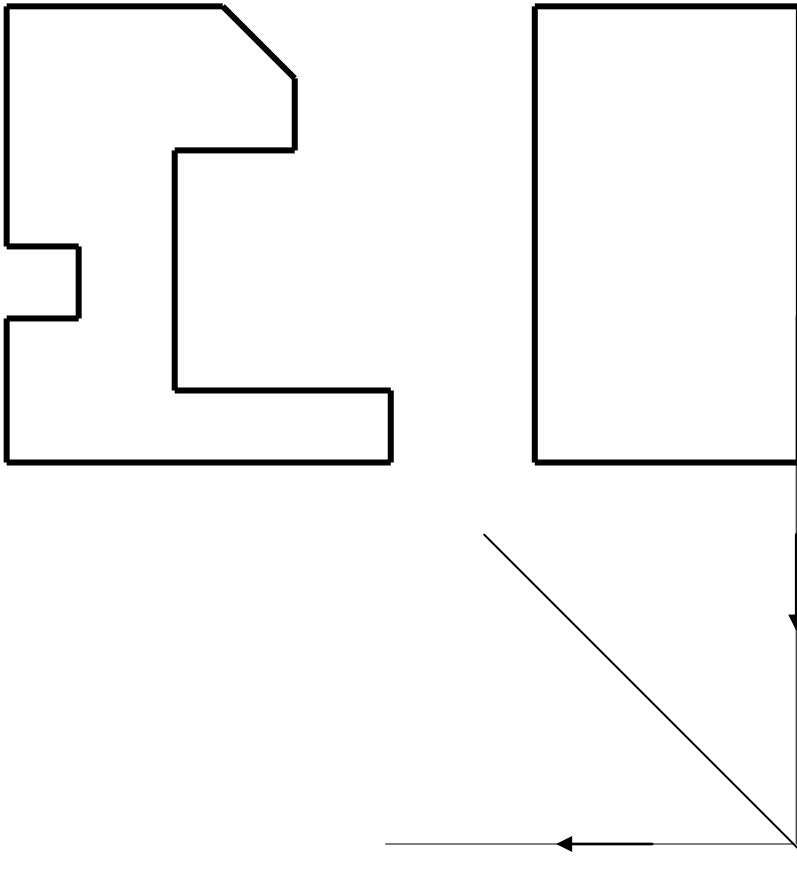
3

تمرين عدد 3 أتأمل الرسم الثلاثي الأبعاد للقطعة الموائية ثم أتعرف إلى مساقطها و أرتبها في الجدول التالي بما يناسب مع اعتبار الوجه المُشار إليه بسهم مسقطاً رأسياً



المسقط اليميني	المسقط العلوي	المسقط الرأسي
.....

تمرين عدد 4 : السند: رسم ثلاثي الأبعاد ومسقط رأسي كامل
العمل المطلوب: بناء المسقط العلوي و إتمامه لاحقاً ثم إتمام المسقط اليساري



5

عملاً موقفاً