

### إختبار كتابي 3

تربية تكنولوجية

/20

7 أساسي :

الضارب: 1

مدة الإنجاز : 60 min

التاريخ :

الإسم واللقب : .....

القسم : ..... الفوج : ع/ر .....

.....

2

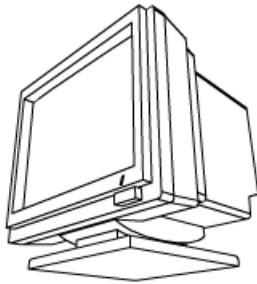
	الرسم المنظوري	A
	الرسم المفكك	B
	الرسم الشامل	C
	الرسم التعريفي	D

1- ما هو نوع الرسم الذي يبين شكل وأبعاد قطعة واحدة؟

2- ما هو نوع الرسم الموالي؟

.....

2



	رسم منظوري	A
	رسم مفكك	B
	رسم شامل	C
	رسم تعريفي	D

3- عرف نوع الرسم المعني بالسؤال 2

.....

2

.....

.....

.....

<input type="checkbox"/>	نعم
<input type="checkbox"/>	لا

4- وثيقة الرسم مقاس A4 مطوية على إثنين تعطي وثيقة رسم A3 .

.....

2

A4=  x

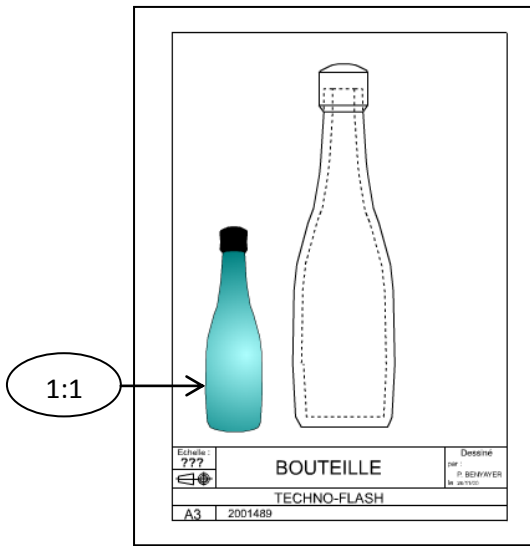
5- ما هو مقاس وثيقة الرسم A4 .

.....

2

6- ما هو سلم رسم القارورة على الوثيقة A4 .

	1:2		3:1
	2:1		1:4



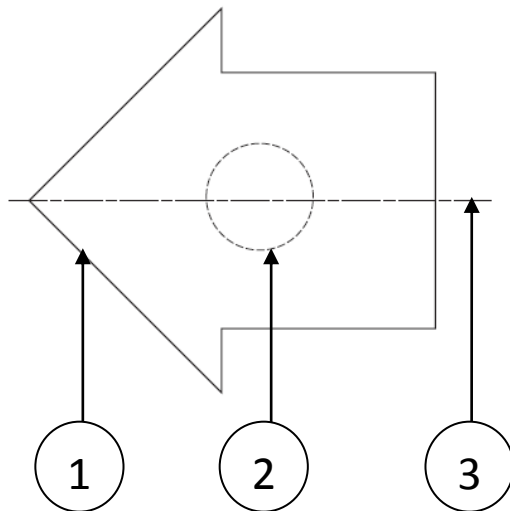
7- أكمل الجدول بما يناسب.

..... سلم : .....	قياس الرسم مساويا للرسم الحقيقي .
..... سلم : .....	قياس الرسم أصغر من القياس الحقيقي .
..... سلم : .....	قياس الرسم أكبر من القياس الحقيقي .

رمز طريقة الرسم	أبعاد الرسم
لون الرسم	سلم الرسم

8- ما هي المعطيات التي لا نجدها على جدول البيانات ؟

9- سمّ الخطوط المرقمة على الرسم الموالي حسب نوعها وسمكها.



..... خط	1
..... خط	2
..... خط	3

عملا موفقا

