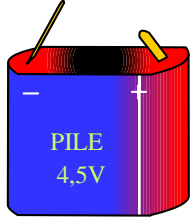
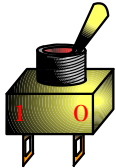
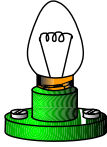
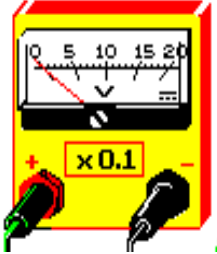



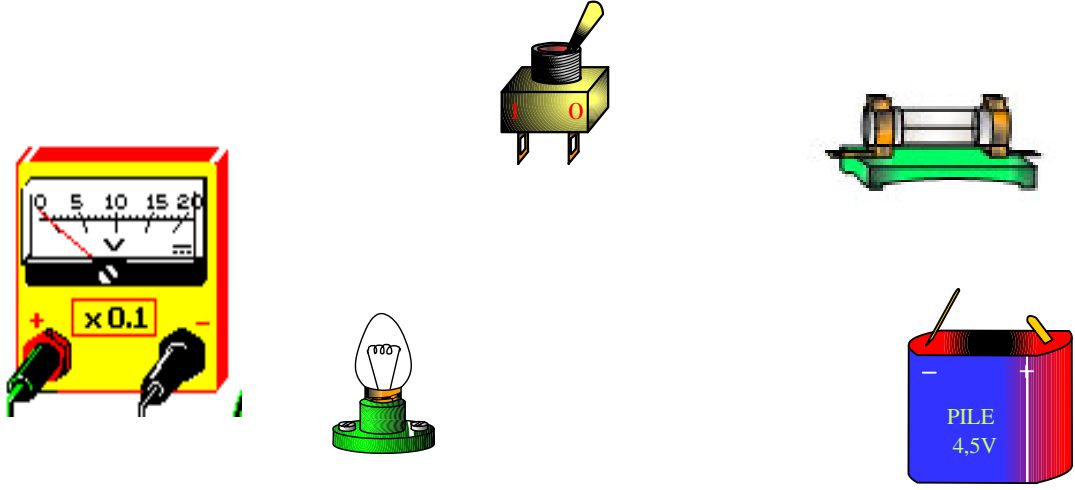
| | | | |
|---------------------------------|--|-----------|--|
| الإسم و اللقب: | <h2 style="text-align: center;">إختبار كتابي 2</h2> <p style="text-align: center;">تربية تكنولوجية</p> | | <p>إعدادية البساتين القصرين مخبر التكنولوجيا</p> |
| القسم : الفوج : ع/ر | | | |
| /20 | 7 أساسي: | الضارب: 1 | مدة الإنجاز : 30 د |
| | | | التاريخ : / / 2008 |

1- أكمل الجدول بما يناسب (تسمية المكونات الإلكترونية ' وظائفها ' وإنجاز الرموز المقننة) .

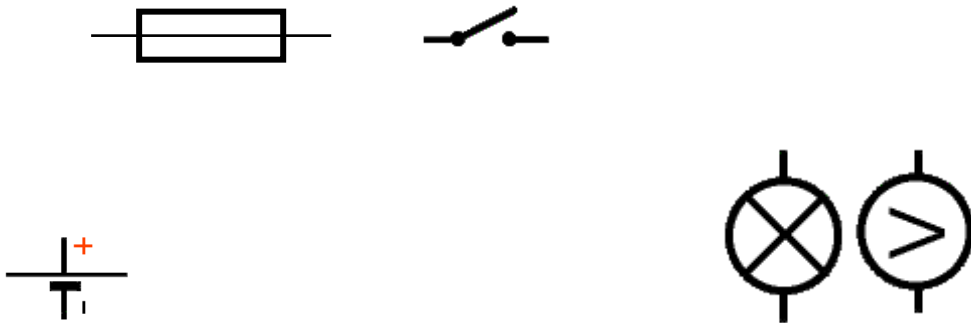
خاص
بالأستاذ

| الرمز | الوظيفة | إسم المكون | صورة المكون |
|-------|-------------------------|----------------|---|
| | | |  |
| | | |  |
| | | |  |
| | | |  |
| | | |  |

2- أربط المكونات بالأسلاك الناقلية للتيار الكهربائي .



3- أكمل الرسم المقنن التالي بما يناسب :



4- لاحظ المعطيات على جهاز القياس وحدد قيمة الجهد الكهربائي بين طرفي المصباح .

