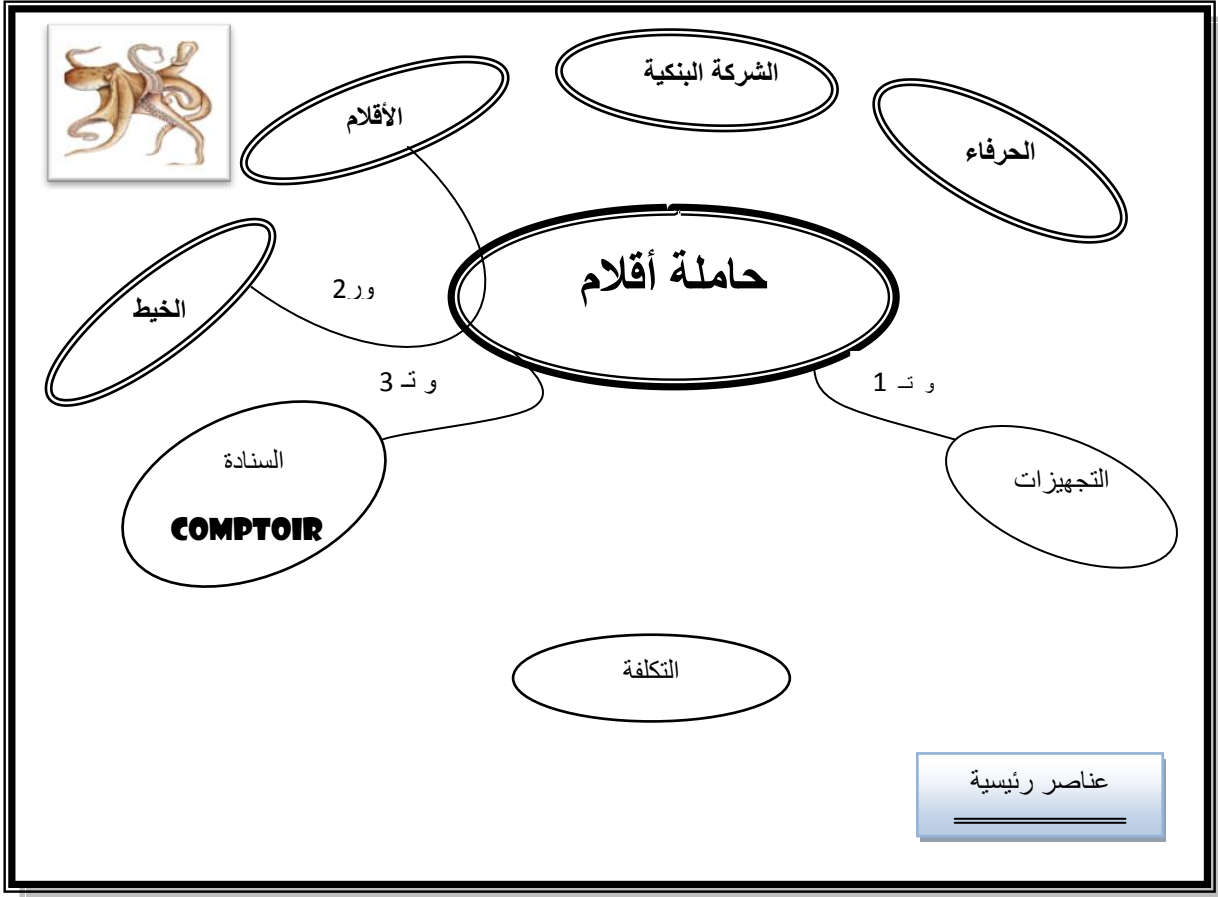




1-4 أكمل ربط العناصر الخارجية عبر وبالمنتج.
1-5 صنف الوظائف على الأخطبوط إلى :
رئيسية وتكميلية .



.....
4

1-6- أكمل صياغة نص الوظائف على الجدول التالي
بما يناسب .

الصف	نص الوظائف
ور1	تمكن الشركة البنكية من وضع على ذمة
ور2	يجب أن يربط بين الحاملة و.....
وت1	يجب أن تتناسق مع بقية
وت2	يجب أن تكون مناسبة.
وت3	يجب أن توضع على باتزان .

.....
4

1-7- حدد خاصية الوظيفتين التكميليتين 1 و 2 (التنصيص على المعيار والمستوى والليونة) .

الصف	نص الوظيفة	المعيار	المستوى	الليونة
وت1
وت2

.....
4

12

2/2



الإسم واللقب :
القسم : الفوج : ع/ر

إختبار كتابي 1

تربية تكنولوجية

إعدادية البساتين
القصرين
مخبر التكنولوجيا

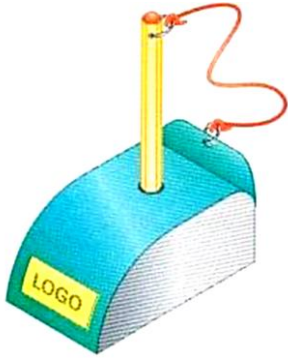
/20

8 أساسي :

الضارب: 1

مدة الإنجاز : 30 د

التاريخ :

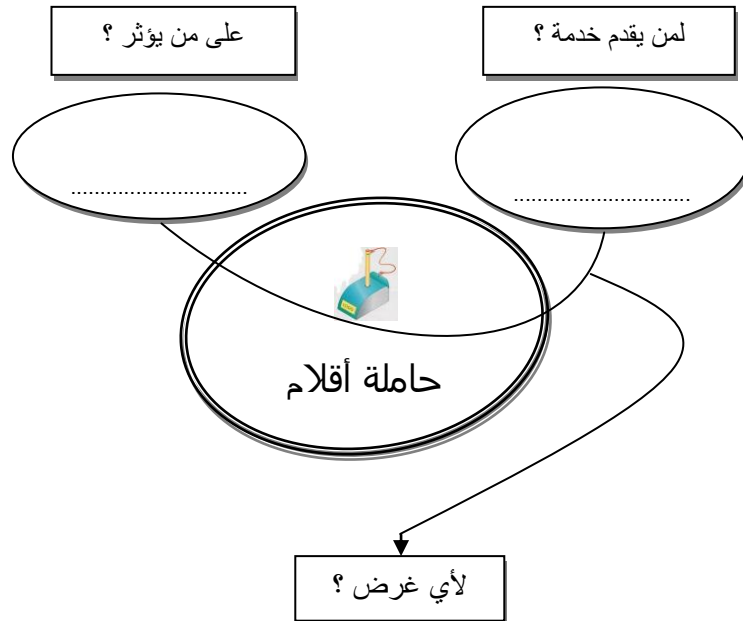


مسألة: لاحظت شركة بنكية أن أغلب أعضائها لا يضعون على ذمة الحرفاء أقلاما للكتابة فقررت تحرير كراس شروط وظيفي ينص على تصنيع منتج تشد عليه الأقسام لتفادي الضياع والسرقة ويتناسب مع بقية التجهيزات
وفي إطار تفتح المؤسسة على المحيط إستعانت الشركة البنكية بتلامذة الثامنة أساسي لتحرير جزء من كراس الشروط الوظيفي .
إنطلاقا من هذا المفهوم نطلب منك الإجابة عن الأسئلة المطروحة .

.....	1-1- ما هي الحاجة المعبر عنها ؟
.....	2-1- ما هو المنتج المناسب لذلك ؟

2

1-3- أجب عن الأسئلة التي تطرحها أداة التعبير عن الحاجة .



3

3

8

1/2

