

الاسم و اللقب:

اختبار كتابي ع-01-دد
في مادة التربية التكنولوجية

المدرسة الإعدادية
بالكريب


القسم: 9 أساسي

الرقم:

التوقيت: 30 دق

التاريخ: 2010/...../.....

20



المنتج: مؤقت إلكتروني

يمكن هذا المنتج من تحديد المدة الزمنية المطلوبة لإنجاز نشاط معين وعند إنتهائها يصدر إشارة سمعية بصرية ويمكن استعماله من طرف: التلميذ، ربة البيت، عامل المخبزة، ...

I - لصناعة هذا المنتج وجب علينا إعداد كراس شروط وظيفي في الغرض.

1 - أذكر أهداف كراس الشروط الوظيفي.

2- أتمم كراس الشروط الوظيفي للمؤقت الإلكتروني.

-1

أ- الطلب: يندرج هذا المشروع في إطار

ب- العرض: بدراسة السوق تبين أن

-2

3- التعبير عن الحاجة: يمكن

4- التعبير الوظيفي: أكمل صياغة وظائف الخدمات بالجدول الموالي.

5- تحديد خاصيات ووظائف الخدمات: أكمل تعيير الجدول.

الرمز	الوظيفة	المعايير	مستوى المعايير	مستوى الليونة
ور	يمكن المستعمل من	سمعية بصرية	****
		****
		قابلة للتعديل	$\pm 3s$
وت1	يكون مظهر الجهاز جذابا.	رمادي	****
		جذاب و مناسب	****
وت2	يتلاءم المؤقت مع العوامل الخارجية.	الحرارة	40°C
		الرطوبة	*****
وت3	الجهد	3V مستمر	$\pm 1V$
		5 ساعات
وت4	± 500 مليم

6- ترتيب وظائف الخدمات:

...../5×0.75


النسبة المئوية = $\frac{المجموع \times 100}{المجموع العام}$

أ- أتم جدول الفرز المتقاطع بما يناسب علما أن:

الرتبة	النسبة (%)	المجموع	وت 4	وت 3	وت 2	وت 1
ور	ور 2	ور 2	ور 3	ور 3
.....	وت 4 3	وت 3 2	وت 2 1	وت 1
.....	وت 4 2	وت 3 1	وت 2	
.....	وت 4 1	وت 3		
.....	وت 4			
	20	المجموع العام			


ب - أتم الرسم البياني للوظائف (مُرْتَبَة).

...../5×0.5



...../1

أذكر وظيفته.....
.....



1-II- من بين مكونات دائرة الجهاز هذا المكون.

2- أذكر طريقة التخلص من هذه المكونات بعد استعمالها.

...../3×0.5

- الأعمدة الجافة.....
- الهيكل (البلاستيك):.....
- الدارة المطبوعة.....

