

الاسم:.....	<b>اختبار كتابي عدد 3</b>	المدرسة الإعدادية
اللقب:.....		7 نوفمبر 87 مساكن
القسم:..... الرقم:.....	المادة: التربية التكنولوجية	التاريخ: 2010/04/24

1.5

(1) أكمل الفراغات بما يناسب من الكلمات التالية (سطح الإسقاط – مسقط – متعامدا )

توضع القطعة بكيفية يكون وجهها المطلوب ..... مع .....،  
و يأخذ الرّسام مكانا مناسباً يمكنه من مشاهدة ذلك الوجه المتعامد فيقوم برسمه.  
يسمى رسم ذلك الوجه .....

(2) عرف بالإسقاط المتعامد:

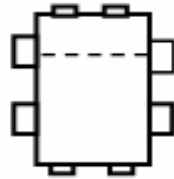
.....  
.....

(3) أجب بصحيح أم خطأ.

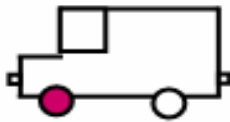
- ..... - المسقط الرأسي على يمين المسقط اليساري :
- ..... - المسقط العلوي أسفل المسقط الرأسي:
- ..... - المسقط اليميني على يسار المسقط العلوي :
- ..... - المسقط الخلفي على يسار المسقط اليميني :
- ..... - المسقط اليساري على يمين المسقط الرأسي :
- ..... - المسقط الرأسي يتوسط المساقط :

(4) تمثل الرّسوم التالية مختلف مساقط شاحنة:

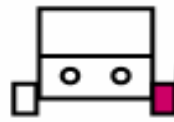
- أتمم تلوين العجلة A على مختلف مساقط السيّارة بنفس اللون:
- أذكر أسماء المساقط تحت كلّ رسم.



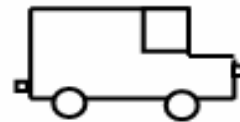
.....




.....



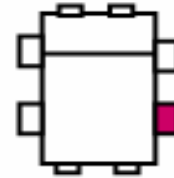
.....



.....



.....

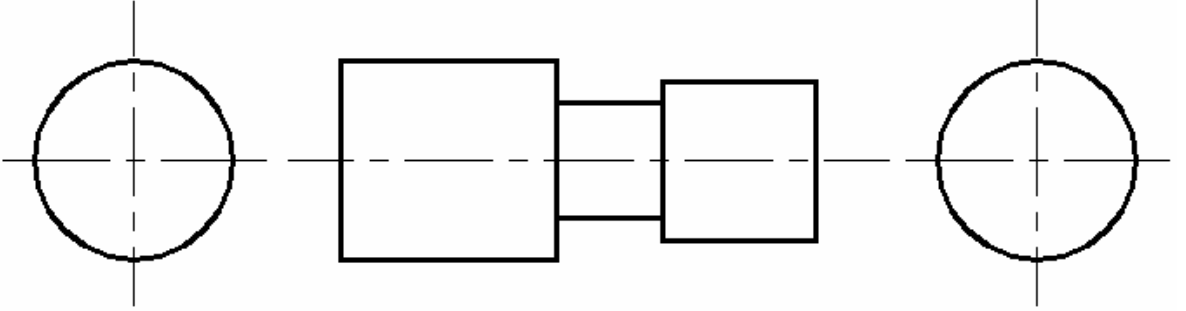


.....

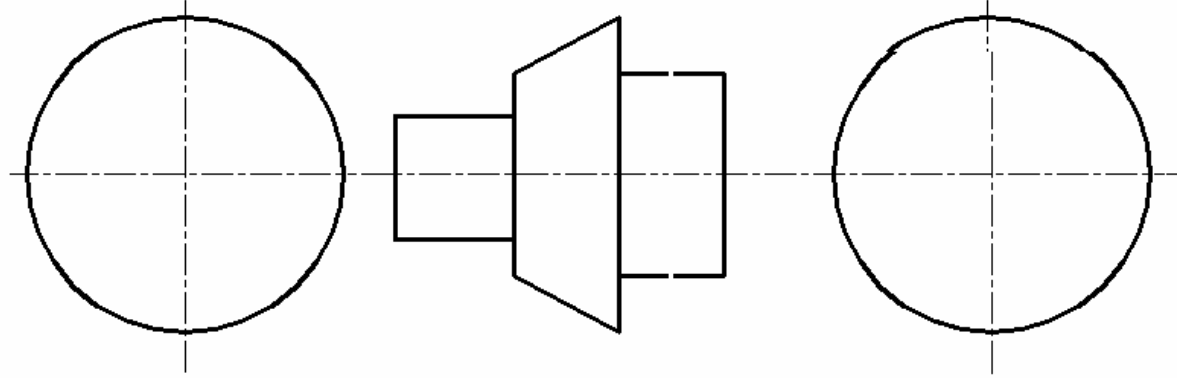
4.5

5) الأشكال الاسطوانية:

- أتم المسقط اليساري والمسقط اليميني للشكل الأسطواني التالي:



- أتم المسقط اليساري والمسقط اليميني للشكل الأسطواني التالي:



حظ سعيد

--	--