

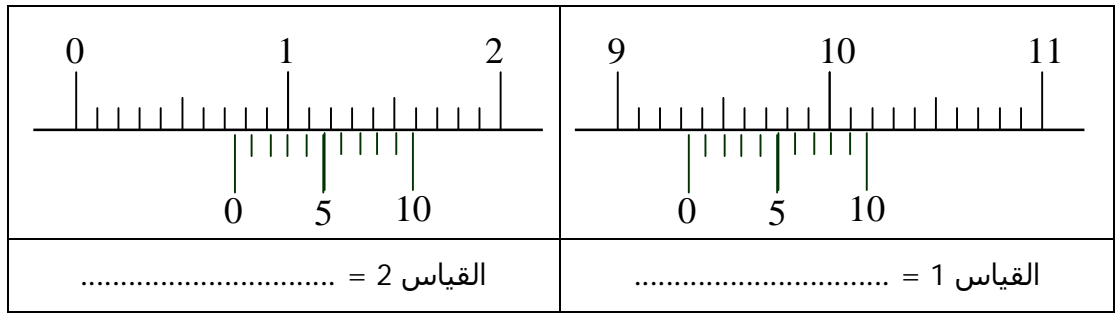
الإسم : ..... اللقب : ..... القسم : ..... الرقم : .....

**تمرين عدد 1**

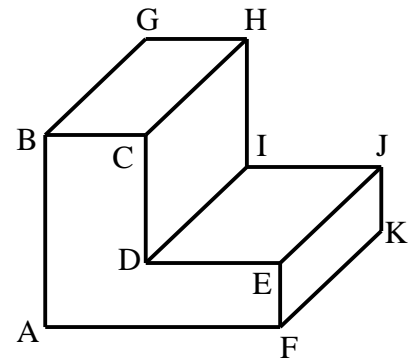
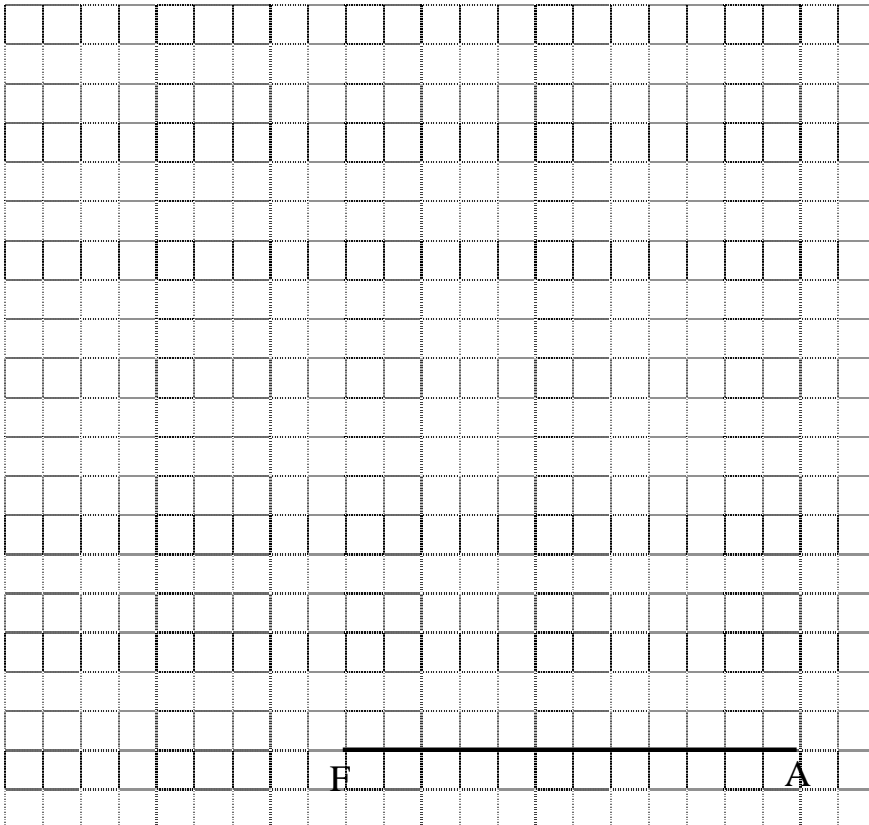
① أذكر القياسات المناسبة لكل مقاس :  
(  
..... = A4  
..... = A3

**تمرين عدد 2**

أثناء استعمال القدم الزالق و قيس بعض القطع تحصلنا على الوضعيات التالية: ----- ( / 3 )  
اقرأ القياسات و قم بتسجيلها في الجدول.

**تمرين عدد 3**

❖ أنجز على الشبكة رسما ثلاثي الأبعاد للقطعة بالخصائص التالية : ----- ( / 15 )



- قياسات الأضلاع :  $AB = 60$  مم
- $AF = 60$  مم
- $BC = 25$  مم
- $EF = 20$  مم
- $FK = 70$  مم

• الوجه الأمامي للرسم: ABCDEF

• اتجاه النظر: بزوايا 45

•  $K = 0.5$

• طول الضلع المائل = .....